





**МОСКОВСКАЯ ОЛИМПИАДА ПО КОМПЛЕКСНОЙ БЕЗОПАСНОСТИ
(КАДЕТСКАЯ ОЛИМПИАДА)**

2018-2019 учебный год

Задания дистанционного отборочного этапа

Определите один правильный ответ. За правильный ответ начисляется 1 балл.	
1.	Дальность прямого выстрела по грудной фигуре из АК-74 составляет а) 1000 м б) 440 м в) 625 м г) 1350 м
2.	Укажите метод специфической профилактики инфекционных заболеваний. а) закаливание б) приём витаминов в) занятия физической культурой г) применение профилактических прививок
3.	Если по шкале Бофорта средняя скорость ветра 17,2 – 20,7 м/с, то это а) очень крепкий ветер (буря) б) сильная буря (шторм) в) полная буря (сильный шторм) г) крепкий ветер
4.	При обнаружении гранаты РГД-5 необходимо удалиться от неё на расстояние не менее а) 20 м б) 60 м в) 70 м г) 30 м д) 50 м
5.	Какое смысловое значение имеет изображённая пиктограмма? а) Находиться на путях вблизи движущегося поезда запрещено! б) Ходить по ж/д путям запрещено! в) Прыгать с платформы запрещено! г) Нерегулируемый проход через пути запрещен!
6.	Как подаётся сигнал SOS с помощью фонарика? а) три коротких световых сигнала, три длинных и снова три коротких б) два коротких световых сигнала, два длинных и снова два коротких в) четыре коротких световых сигнала, четыре длинных и снова четыре коротких г) три коротких световых сигнала, два длинных и снова три коротких
7.	От негативного воздействия свободных радикалов организм защищают а) окислители б) оксиданты в) пестициды г) антиоксиданты




8.	<p>Какой след принадлежит медведю?</p> <p>а) </p> <p>б) </p> <p>в) </p> <p>г) </p>
9.	<p>Сколько вдыхательных клапанов имеет респиратор Р-2?</p> <p>а) 4 б) 3 в) 2 г) 1</p>
10.	<p>Если провалился под лёд, то выбираться надо</p> <p>а) в левую сторону от направления движения б) в ту сторону, откуда пришли в) в правую сторону от направления движения г) вперёд по направлению движения</p>
11.	<p>Сколько различают зон действия взрыва?</p> <p>а) 5 б) 2 в) 3 г) 4</p>
12.	<p>При наличии подтверждённой информации о реальной возможности совершения террористического акта устанавливается</p> <p>а) жёлтый уровень террористической опасности б) красный уровень террористической опасности в) синий уровень террористической опасности г) оранжевый уровень террористической опасности</p>
13.	<p>При каком ранении применяется герметизирующая (окклюзионная) повязка при оказании первой помощи?</p> <p>а) ранение живота б) ранение грудной клетки в) ранение таза г) ранение конечности</p>
14.	<p>Средняя годовая эффективная доза ионизирующего излучения для человека равна</p> <p>а) 0,025 Зв б) 0,005 Зв в) 0,001 Зв г) 0,007 Зв</p>

15.	<p>При каком повреждении и (или) состоянии пострадавшего применяется изображённое на картинке транспортное положение?</p> <p>а) отсутствие сознания, травма головы слева б) отсутствие сознания, травма груди слева в) отсутствие сознания, массивная кровопотеря г) отсутствие сознания, травма груди справа</p>	
16.	<p>Кадетские корпуса в России ведут свой временной отсчёт с</p> <p>а) 1731 г. б) 1701 г. в) 1689 г. г) 1698 г.</p>	
17.	<p>Днём Конституции Российской Федерации является</p> <p>а) 5 декабря б) 1 декабря в) 9 декабря г) 12 декабря</p>	
18.	<p>Какие мероприятия по восстановлению проходимости дыхательных путей применяются при оказании первой помощи?</p> <p>а) опускание нижней челюсти б) поворот головы с опусканием нижней челюсти в) поворот головы набок г) запрокидывание головы</p>	
19.	<p>Сколько видов формы одежды в настоящее время существует у военнослужащих ВС РФ?</p> <p>а) 2 б) 3 в) 4 г) 5</p>	
20.	<p>Какое смысловое значение имеет изображённый дорожный знак?</p> <p>а) выезд на дорогу с полосой для велосипедов б) велосипедная дорожка в) пешеходная и велопешеходная дорожка с разделённым движением г) дорога с полосой для велосипедов</p>	

Определите все правильные ответы.

За каждый правильный ответ начисляется 1 балл.

21.	Какие признаки являются общими для ушибов, растяжений, переломов и вывихов? а) укорочение конечности б) отёк в месте повреждения в) деформация конечности г) кровоизлияние в месте повреждения д) патологическая (неестественная) подвижность в месте повреждения
22.	Какое значение имеет жёлтый мигающий сигнал светофора? а) запрещает движение б) разрешает движение и информирует, что время его действия истекает и вскоре будет включён запрещающий сигнал в) предупреждает об опасности г) запрещает движение, кроме случаев, предусмотренных пунктом 6.14 ПДД, и предупреждает о предстоящей смене сигналов д) разрешает движение и информирует о наличии нерегулируемого перекрёстка или пешеходного перехода
23.	Какие ручные осколочные гранаты представлены на изображениях? а) РГО б) РГН в) Ф-1 г) РГД-5 д) РГД-33
24.	Где должен двигаться пешеход при наличии всех элементов дороги? а) по тротуару б) по обочине в) по велопешеходной дорожке г) по краю проезжей части д) по велосипедной дорожке
25.	В каких продуктах содержание витаминов А, Е, С больше, чем в других? а) морковь б) помидор в) петрушка обыкновенная г) картофель д) свёкла обыкновенная
26.	Определите, что относится к опасным геологическим явлениям? а) землетрясения б) извержения вулканов в) обвалы г) магнитные бури д) оползни
27.	Какие продукты составляют основу пирамиды здорового питания? а) овощи и фрукты б) молочные продукты в) каши, хлеб из муки грубого помола г) рыба, мясо д) макароны из цельнозерновой муки



28.	<p>Какие зоны радиоактивного загрязнения местности относят к зонам внутреннего облучения?</p> <p>а) А (умеренного) б) Д (чрезвычайно опасного) в) Б (сильного) г) Г (чрезвычайно опасного) д) Д' (опасного)</p>
29.	<p>По типам лесные пожары, сходные по объекту горения и характеру их распространения, подразделяются на</p> <p>а) верховые б) околосемные в) торфяные г) круговые д) покровные</p>
30.	<p>Снятый головной убор военнослужащим держится</p> <p>а) в левой опущенной руке б) в правой опущенной руке в) кокардой вперед г) кокардой назад д) на предплечье левой согнутой руки</p>
31.	<p>Что из перечисленного является видом войск ВС РФ?</p> <p>а) Мотострелковые войска б) Сухопутные войска в) Ракетные войска стратегического назначения г) Войска ПВО-ПРО д) Воздушно-космические силы</p>
32.	<p>Какие даты являются Днями воинской славы России?</p> <p>а) 7 ноября б) 24 декабря в) 25 января г) 2 сентября д) 12 декабря</p>
33.	<p>Какое количество и каких нашивок размещается на погоне старшины?</p> <p>а) 1 б) узкая-(х) в) 2 г) широкая-(х) д) 3</p>

34. На каких изображениях выбор места наблюдения является правильным?

а)



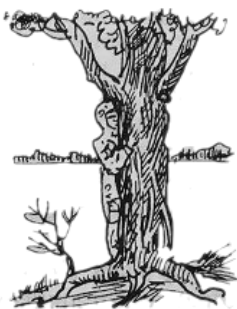
б)



в)



г)



д)



35. По команде «ВОЛЬНО» разрешается

- а) ослабить левую или правую ногу
- б) поправить обмундирование
- в) разговаривать
- г) сходить с места
- д) стать свободно

**Методика оценивания выполнения тестовых заданий
дистанционного (отборочного) этапа**

№ тестового задания	Максимальный балл	Порядок оценки тестовых заданий
1–20	1	За правильный ответ начисляется 1 балл . 0 баллов выставляется за неправильный ответ, а также если участником отмечены несколько ответов (в том числе правильный).
21–35	2	За каждый правильный ответ начисляется 1 балл . 0 баллов выставляется за неправильный ответ, а также если участником отмечены более двух ответов (в том числе правильные).
ИТОГО	50	Общий итоговый балл определяется суммой баллов, полученных за каждое тестовое задание.

Матрица ответов тестовых заданий дистанционного (отборочного) этапа

1.	б
2.	г
3.	а
4.	д
5.	б
6.	а
7.	г
8.	в
9.	в
10.	б
11.	в
12.	а
13.	б
14.	в
15.	б
16.	б
17.	г
18.	г
19.	б
20.	г
21.	б,г
22.	в,д
23.	а,г
24.	а,в
25.	а,б
26.	в,д
27.	в,д
28.	б,д
29.	а,в
30.	а,в
31.	б,д
32.	а,б
33.	а,г
34.	б,д
35.	а,д